

■ 中1まとめのチェック(No.5)

- ※ 1. 採点すれば解答が出ますが、今までの「まとめ」なので説明はありません。
 2. 最後のページ終了後さらに次のページに進めば、学習の記録を送信できます。

[第1ページ / 全2ページ] [採点する] [やり直す] [次のページ]

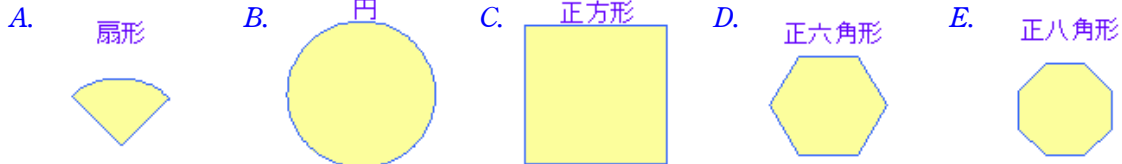
【 対称な図形 】

1. 次の間に答えよ。(選択肢 A~Eから選びなさい。)

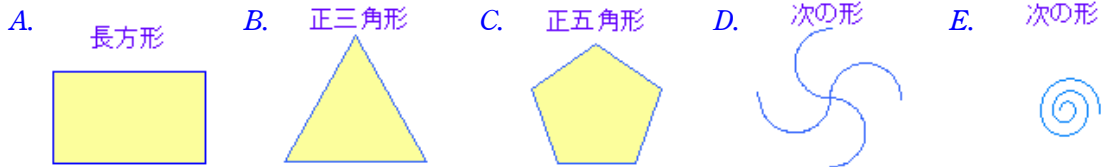
(1) 次のうち点対称であって線対称でない図形はどれか。 × : D



(2) 次のうち線対称であって点対称でない図形はどれか。 × : A



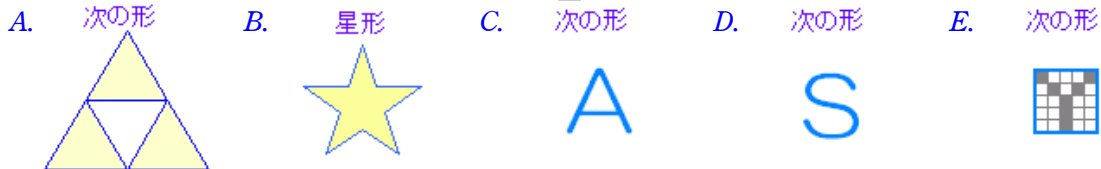
(3) 次のうち線対称であってかつ点対称である図形はどれか。 × : A



(4) 次のうち線対称でもなく点対称でもない図形はどれか。 × : E



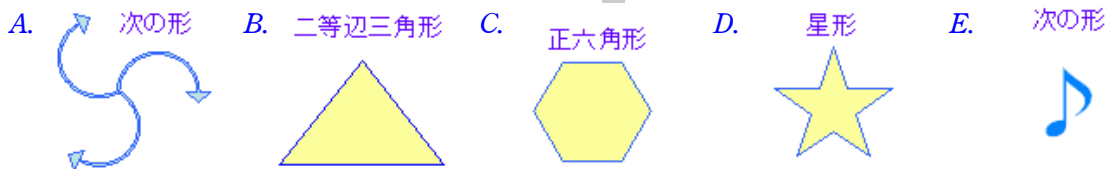
(5) 次のうち点対称であって線対称でない図形はどれか。 × : D



(6) 次のうち線対称であって点対称でない図形はどれか。 × : E



(7) 次のうち線対称であってかつ点対称である図形はどれか。 × : C



(8) 次のうち線対称でもなく点対称でもない図形はどれか。 × : E




■ 中1まとめのチェック(No.5)

- ※ 1. 採点すれば解答が出ますが、今までの「まとめ」なので説明はありません。
 2. 最後のページ終了後さらに次のページに進めば、学習の記録を送信できます。


[第2ページ / 全2ページ] [採点する] [やり直す] [次のページ]

【同じ形】 (以下の問題においては、回転させて一致する図形は「同じ形」とする。裏返した図形は、元の形と同じ形とは考えない。なお、網目も図形の一部とする。)


2. 次の問に答えよ。(A~Eから選択せよ。)

(1) 右の図形と同じ形の図形はどれか.  × : A




(2) 右の図形と同じ形の図形はどれか.  × : C




(3) 右の図形と同じ形の図形はどれか.  × : D




(4) 右の図形を裏返した図形はどれか.  × : E




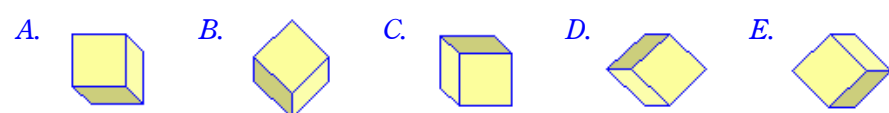
(5) 右の図形を裏返した図形はどれか.  × : B




(6) 右の図形の回転や裏返しを行っても一致しない図形はどれか.  × : D



(7) 右の図形を右向きに45° 回転した図形はどれか.  × : E



(8) 右の図形を180° 回転した図形はどれか.  × : D

